
































































































Kor: **Nem:** férfi/nő **Település:** **Jogosítvány:** Van/Nincs **Jogosítvány típusa:**.....

FELADAT: A megfelelőnek ítélt jelzőtábla sorszámát karikázd be!

<p>1. Melyik táblával jelölik a „lakó-pihenő övezetet”?</p>	 1.	 2.	 3.	 4.	 5.
<p>2. Melyik tábla az „egyirányú forgalmú út” jelzése?</p>	 1.	 2.	 3.	 4.	 5.
<p>3. Melyik tábla tartozik az „útvonaltípust” jelzők közé?</p>	 1.	 2.	 3.	 4.	 5.
<p>4. Melyik tábla jelzi, a szembejövő forgalom elsőbbségét?</p>	 1.	 2.	 3.	 4.	 5.
<p>5. Melyik tábla jelentése az, hogy „szembejövő forgalom”?</p>	 1.	 2.	 3.	 4.	 5.
<p>6. Melyik tábla jelzi a várakozás tilalmát?</p>	 1.	 2.	 3.	 4.	 5.
<p>7. Melyik tábla jelzi a főútvonal végét?</p>	 1.	 2.	 3.	 4.	 5.
<p>8. Melyik tábla jelentése: „behajtani tilos”?</p>	 1.	 2.	 3.	 4.	 5.
<p>9. Melyik tábla jelzi az egyenrangú utak kereszteződését?</p>	 1.	 2.	 3.	 4.	 5.

<p>10. Melyik tábla jelenti: „elsőbb-ség a szembejövő forgalommal szemben”?</p>	 <p>1.</p>	 <p>2.</p>	 <p>3.</p>	 <p>4.</p>	 <p>5.</p>
<p>11. Melyik tábla jelez útszűkületet?</p>	 <p>1.</p>	 <p>2.</p>	 <p>3.</p>	 <p>4.</p>	 <p>5.</p>
<p>12. Melyik tábla jelzi a kötelező haladási irányt?</p>	 <p>1.</p>	 <p>2.</p>	 <p>3.</p>	 <p>4.</p>	 <p>5.</p>
<p>13. Melyik tábla jelöli a lakott területet?</p>	 <p>1.</p>	 <p>2.</p>	 <p>3.</p>	 <p>4.</p>	 <p>5.</p>
<p>14. Melyik tábla jelzi a vasúti átjáró kezdetét?</p>	 <p>1.</p>	 <p>2.</p>	 <p>3.</p>	 <p>4.</p>	 <p>5.</p>
<p>15. Melyik tábla jelentése az, hogy „gyalogosok”?</p>	 <p>1.</p>	 <p>2.</p>	 <p>3.</p>	 <p>4.</p>	 <p>5.</p>
<p>16. Melyik tábla tiltja a balra bekanyarodást és a megfordulást?</p>	 <p>1.</p>	 <p>2.</p>	 <p>3.</p>	 <p>4.</p>	 <p>5.</p>
<p>17. Melyik tábla jelenti azt, hogy „kerékpárral behajtani tilos”?</p>	 <p>1.</p>	 <p>2.</p>	 <p>3.</p>	 <p>4.</p>	 <p>5.</p>
<p>18. Melyik tábla jelzi, hogy az utat villamos pálya keresztezi?</p>	 <p>1.</p>	 <p>2.</p>	 <p>3.</p>	 <p>4.</p>	 <p>5.</p>
<p>19. Melyik tábla megnevezése a „mindkét irányból behajtani tilos”?</p>	 <p>1.</p>	 <p>2.</p>	 <p>3.</p>	 <p>4.</p>	 <p>5.</p>

Táblafelismerés Megoldókulcs

1. Melyik táblával jelölik a „lakópihenő övezetet”?	
2. Melyik tábla az „egyirányú forgalmú út” jelzése?	
3. Melyik tábla tartozik az „útvonaltípust” jelzők közé?	
4. Melyik tábla jelzi, a szembejövő forgalom elsőbbségét?	
5. Melyik tábla jelentése az, hogy „szembejövő forgalom”?	
6. Melyik tábla jelzi a várakozás tilalmát?	
7. Melyik tábla jelzi a főútvonal végét?	
8. Melyik tábla jelentése: „behajtani tilos”?	
9. Melyik tábla jelzi az egyenrangú utak kereszteződését?	

10. Melyik tábla jelenti: „elsőbbség a szembejövő forgalommal szemben”?	
11. Melyik tábla jelez útszűkületet?	
12. Melyik tábla jelzi a kötelező haladási irányt?	
13. Melyik tábla jelöli a lakott területet?	
14. Melyik tábla jelzi a vasúti átjáró kezdetét?	
15. Melyik tábla jelentése az, hogy „gyalogosok”?	
16. Melyik tábla tiltja a balra bekanyarodást és a megfordulást?	
17. Melyik tábla jelenti azt, hogy „kerékpárral behajtani tilos”?	
18. Melyik tábla jelzi, hogy az utat villamospálya keresztezi?	
19. Melyik tábla megnevezése a „mindkét irányból behajtani tilos”?	