


KRESZ – feladatlap (TÁBLAISMERET)

1) Mi a tábla megnevezése?

- a. „Egyéb veszély”
- b. „Vigyázz! Autó”
- c. „Elsőbbségadás kötelező”



2) Mi a tábla megnevezése?

- a. „Állj! Vasúti átjáró”
- b. „Állj!”
- c. „Állj! Elsőbbségadás kötelező”



3) Mi a tábla megnevezése?

- a. „Elsőbbség a szembejövő forgalommal szemben!”
- b. „Útszűkület”
- c. „A szembejövő forgalom elsőbbsége”



4) Mi a tábla megnevezése?

- a. „Behajtani tilos!”
- b. „Várakozni tilos!”
- c. „Mindkét irányból behajtani tilos!”



5) Mi a tábla megnevezése?

- a. „Előzni tilos!”
- b. „Sebességkorlátozás”
- c. „Gépjárművel behajtani tilos”



6) Mi a tábla megnevezése?

- a. „Kötelező haladási irány”
- b. „Jobbra és balra kanyarodni tilos!”
- c. „Kikerülési irány”



7) Mi a tábla megnevezése?

- a. „Vigyázz! Kétirányú forgalom!”
- b. „Útszűkület, a szembejövő forgalom elsőbbsége!”
- c. „Elsőbbség a szembejövő forgalommal szemben!”



8) Mi a tábla megnevezése?

- a. „Előzni Tilos!”
- b. „Sebességkorlátozás vége!”
- c. „Behajtani tilos!”



9) Mi a tábla megnevezése?

- a. „Bukkanó”
- b. „Veszélyes gyalogosátkelő”
- c. „Egyenetlen úttest!”



10) Mit jelez a tábla?

- a. „Az úton megfordulni tilos”
b. „A megfordulási tilalom vége”
c. „Az úton balra bekanyarodni és megfordulni tilos”



11) Mit jelez a tábla?

- a. „Megállási tilalmat”
b. „Korlátozott időtartamú várakozási övezet”
c. „A várakozás tilalmát”



12) Mit jelez a tábla?

- a. „Két- vagy többvágányú vasúti átjáró kezdetét”
b. „Jelzőőrrel biztosított vasúti átjárót”
c. „Egyvágányú vasúti átjáró kezdetét”



13) Mi a tábla megnevezése?

- a. „Kerékpárút”
b. „Kerékpárral behajtani tilos!”
c. „Vigyázz! Az úton kerékpárosok”



14) Mi a táblák megnevezése?

- a. „Vasúti sorompók”
b. „Vasúti átjáró kezdete”
c. „Vasúti átjárót előjelző táblák”



15) Mi a tábla megnevezése?

- a. „Kijelölt gyalogos-átkelőhely”
b. „Veszély! Gyerekek”
c. „Gyalogosátkelés”



16) Mit jeleznek a táblák?

- a. „Kötelező haladási irányt”
b. „Egyirányú forgalmú utat”
c. „Kikerülési irányt”



17) Mi a tábla megnevezése?

- a. „Az úton balra bekanyarodni tilos!”
b. „Balra bekanyarodni és megfordulni tilos!”
c. „Veszélyes útkanyarulat balra ”



18) Mi a tábla megnevezése?

- a. „Lakott terület”
b. „Lakó pihenő övezet”
c. „Játszótér”



19) Hogyan értelmezed a tábla jelentését?

- a. „Nem tiltja a legfeljebb öt percig történő egy helyben tartózkodást.”
- b. „Korlátozott várakozási övezetet jelez.”
- c. „A forgalmi, vagy műszaki okból szükséges megállást kivéve megállni tilos.”



20) Hogyan értelmezed a tábla jelentését?

- a. „Az úton a domborzati viszonyok miatt a kilátás korlátozott.”
- b. „Az út közvetlenül a vízparton vagy szakadék mellett vezet.”
- c. „Az úttest erősen csúszóssá válhat.”



21) Hogyan értelmezed a tábla jelentését?

- a. „Vigyázni kell, mert az úton a gyalogosoknak fokozottan kell számolnia kerékpárosokkal.”
- b. „Az úttesten fokozottan számolni kell a gyalogosok közlekedésével.”
- c. „Fokozottan számolni kell a gyermekeknek az úttestre történő lelépésével.”



22) Hogyan értelmezed a tábla jelentését?

- a. „Azt jelzi, hogy a táblát – illetve azt az akadályt, vagy egyéb tárgyat, amelyen a táblát elhelyezték – a táblán lévő nyilak által jelzett irányokban kell kikerülni.”
- b. „Balra kanyarodási és visszakanyarodási lehetőséget jelez.”
- c. „Azt jelzi, hogy az útkereszteződésben a táblán látható nyíl(ak) által jelzett irány(ok)ban kell továbbhaladni.”



23) Hogyan értelmezed a tábla jelentését?




- a. „Azt jelzi, hogy az úton kétirányú forgalom van.”
- b. „Olyan utat jelez, ahol az úttesten lévő forgalmi sávok valamelyikének szélessége lényegesen csökken.”
- c. „Azt jelzi, hogy az útkereszteződés előtt, a továbbhaladási iránytól függően melyik forgalmi sávba kell besorolni.”




24) Hogyan értelmezed a tábla jelentését?

- a. „Az úton teljes, vagy felsorompóval biztosított vasúti átjáró van.”
- b. „A jelzőtábla fény- és felsorompóval biztosított vasúti átjárót jelez.”
- c. „Azt jelzi, hogy az úton olyan vasúti átjáró van, melynél nincs felszerelve teljes-, vagy felsorompó.”



25) Közlekedhetsz-e járművel a táblával megjelölt úton?		
a. „Igen.”	<input type="checkbox"/>	
b. „Csak célforgalom esetén, a gyalogosok veszélyeztetése nélkül és legfeljebb 20 km/h sebességgel.”	<input type="checkbox"/>	
c. „Nem.”	<input type="checkbox"/>	
26) Hogyan értelmezed a tábla jelentését?		
a. „Az úton olyan útkereszteződés van, amelyben a járműnek elsőbbsége van a jobbról érkező járművel szemben.”	<input type="checkbox"/>	
b. „Az úton olyan útkereszteződés van, amelyben a jobbról érkező járműveknek van elsőbbsége.”	<input type="checkbox"/>	
c. „Az úton olyan útkereszteződés van, ahol a keresztező úton érkező minden járműnek elsőbbsége van.”	<input type="checkbox"/>	
27) Hogyan értelmezed a tábla jelentését?		
a. „Az úttest a megelőző útszakaszhoz képest lényegesen rosszabb állapotban van.”	<input type="checkbox"/>	
b. „Az úton a domborzati viszonyok miatt a kilátás korlátozott.”	<input type="checkbox"/>	
c. „A gödrös, rossz állapotban lévő úttesten az alacsony járművek alja fennakadhat.”	<input type="checkbox"/>	
28) Hány éves kortól szabad közlekedni kerékpárral a táblával megjelölt útvonalon?		
a. „Kísérővel 6, kísérő nélkül 12 éves kortól.”	<input type="checkbox"/>	
b. „Kísérővel 10, önállóan 12 éves kortól.”	<input type="checkbox"/>	
c. „Csak 12 éves kortól.”	<input type="checkbox"/>	
29) Mennyi időre állhatsz meg a táblával megjelölt úttesten?		
a. „Csak az utas(ok) be- és kiszállásához szükséges ideig.”	<input type="checkbox"/>	
b. „A be- és kiszálláshoz, vagy a folyamatos fel- és lerakodáshoz szükséges ideig, valamint egyéb okból – ha a vezető a járműnél marad – legfeljebb 5 percig.”	<input type="checkbox"/>	
c. „Legfeljebb 10 percig.”	<input type="checkbox"/>	
30) Mit jelez ez a tábla?		
a. „A nyíl mutatja az ajánlott haladási irányt.”	<input type="checkbox"/>	
b. „Az út ideiglenes lezárása miatt a terelőút jobbra vezet.”	<input type="checkbox"/>	
c. „Az útkereszteződésben jobbra kell továbbhaladni.”	<input type="checkbox"/>	

KRESZ – feladatlap megoldás

1) Mi a tábla megnevezése?		
a. „Egyéb veszély”	<input type="checkbox"/>	
b. „Vigyázz! Autó”	<input type="checkbox"/>	
c. <u>„Elsőbbségadás kötelező”</u>	<input type="checkbox"/>	
2) Mi a tábla megnevezése?		
a. „Állj! Vasúti átjáró”	<input type="checkbox"/>	
b. „Állj!”	<input type="checkbox"/>	
c. <u>„Állj! Elsőbbségadás kötelező”</u>	<input type="checkbox"/>	
3) Mi a tábla megnevezése?		
a. „Elsőbbség a szembejövő forgalommal szemben!”	<input type="checkbox"/>	
b. „Útszűkület”	<input type="checkbox"/>	
c. <u>„A szembejövő forgalom elsőbbsége”</u>	<input type="checkbox"/>	
4) Mi a tábla megnevezése?		
a. „Behajtani tilos!”	<input type="checkbox"/>	
b. „Várakozni tilos!”	<input type="checkbox"/>	
c. <u>„Mindkét irányból behajtani tilos!”</u>	<input type="checkbox"/>	
5) Mi a tábla megnevezése?		
a. „Előzni tilos!”	<input type="checkbox"/>	
b. „Sebességkorlátozás”	<input type="checkbox"/>	
c. <u>„Gépjárművel behajtani tilos”</u>	<input type="checkbox"/>	
6) Mi a tábla megnevezése?		
a. „Kötelező haladási irány”	<input type="checkbox"/>	
b. „Jobbra és balra kanyarodni tilos!”	<input type="checkbox"/>	
c. <u>„Kikerülési irány”</u>	<input type="checkbox"/>	
7) Mi a tábla megnevezése?		
a. „Vigyázz! Kétirányú forgalom!”	<input type="checkbox"/>	
b. „Útszűkület, a szembejövő forgalom elsőbbsége!”	<input type="checkbox"/>	
c. <u>„Elsőbbség a szembejövő forgalommal szemben!”</u>	<input type="checkbox"/>	
8) Mi a tábla megnevezése?		
a. „Előzni Tilos!”	<input type="checkbox"/>	
b. „Sebességkorlátozás vége!”	<input type="checkbox"/>	
c. <u>„Behajtani tilos!”</u>	<input type="checkbox"/>	
9) Mi a tábla megnevezése?		
a. „Bukkanó”	<input type="checkbox"/>	
b. „Veszélyes gyalogosátkelő”	<input type="checkbox"/>	
c. <u>„Egyenetlen úttest!”</u>	<input type="checkbox"/>	


10) Mit jelez a tábla?

- a. „Az úton megfordulni tilos”
- b. „A megfordulási tilalom vége”
- c. „Az úton balra bekanyarodni és megfordulni tilos”



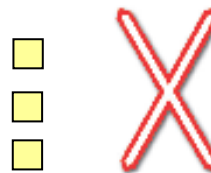
11) Mit jelez a tábla?

- a. „Megállási tilalmat”
- b. „Korlátozott időtartamú várakozási övezet”
- c. „A várakozás tilalmát”



12) Mit jelez a tábla?

- a. „Két- vagy többvágányú vasúti átjáró kezdetét”
- b. „Jelzőőrrel biztosított vasúti átjárót”
- c. „Egyvágányú vasúti átjáró kezdetét”



13) Mi a tábla megnevezése?

- a. „Kerékpárút”
- b. „Kerékpárral behajtani tilos!”
- c. „Vigyázz! Az úton kerékpárosok”



14) Mi a táblák megnevezése?

- a. „Vasúti sorompók”
- b. „Vasúti átjáró kezdete”
- c. „Vasúti átjárót előjelző táblák”



15) Mi a tábla megnevezése?

- a. „Kijelölt gyalogos-átkelőhely”
- b. „Veszély! Gyerekek”
- c. „Gyalogosátkelés”



16) Mit jeleznek a táblák?

- a. „Kötelező haladási irányt”
- b. „Egyirányú forgalmú utat”
- c. „Kikerülési irányt”



17) Mi a tábla megnevezése?

- a. „Az úton balra bekanyarodni tilos!”
- b. „Balra bekanyarodni és megfordulni tilos!”
- c. „Veszélyes útkanyarulat balra ”



18) Mi a tábla megnevezése?

- a. „Lakott terület”
- b. „Lakó pihenő övezet”
- c. „Játszótér”



19) Hogyan értelmezed a tábla jelentését?

- a. „Nem tiltja a legfeljebb öt percig történő egy helyben tartózkodást.”
- b. „Korlátozott várakozási övezetet jelez.”
- c. **„A forgalmi, vagy műszaki okból szükséges megállást kivéve megállni tilos.”**



20) Hogyan értelmezed a tábla jelentését?

- a. „Az úton a domborzati viszonyok miatt a kilátás korlátozott.”
- b. „Az út közvetlenül a vízparton vagy szakadék mellett vezet.”
- c. **„Az úttest erősen csúszóssá válhat.”**



21) Hogyan értelmezed a tábla jelentését?

- a. „Vigyázni kell, mert az úton a gyalogosoknak fokozottan kell számolnia kerékpárosokkal.”
- b. **„Az úttesten fokozottan számolni kell a gyalogosok közlekedésével.”**
- c. „Fokozottan számolni kell a gyermekek az úttestre történő lelépésével.”



22) Hogyan értelmezed a tábla jelentését?

- a. „Azt jelzi, hogy a táblát – illetve azt az akadályt, vagy egyéb tárgyat, amelyen a táblát elhelyezték – a táblán lévő nyilak által jelzett irányokban kell kikerülni.”
- b. „Balra kanyarodási és visszakanyarodási lehetőséget jelez.”
- c. **„Azt jelzi, hogy az útkereszteződésben a táblán látható nyíl(ak) által jelzett irány(ok)ban kell továbbhaladni.”**



23) Hogyan értelmezed a tábla jelentését?







- a. „Azt jelzi, hogy az úton kétirányú forgalom van.”
- b. **„Olyan utat jelez, ahol az úttesten lévő forgalmi sávok valamelyikének szélessége lényegesen csökken.”**
- c. „Azt jelzi, hogy az útkereszteződés előtt, a továbbhaladási iránytól függően melyik forgalmi sávba kell besorolni.”



24) Hogyan értelmezed a tábla jelentését?

- a. „Az úton teljes, vagy felsorompóval biztosított vasúti átjáró van.”
- b. „A jelzőtábla fény- és felsorompóval biztosított vasúti átjárót jelez.”
- c. **„Azt jelzi, hogy az úton olyan vasúti átjáró van, melynél nincs felszerelve teljes-, vagy felsorompó.”**



25) Közlekedhetsz-e járművel a táblával megjelölt úton?	<input type="checkbox"/>	
a. „Igen.”	<input type="checkbox"/>	
b. „Csak célforgalom esetén, a gyalogosok veszélyeztetése nélkül és legfeljebb 20 km/h sebességgel.”	<input type="checkbox"/>	
c. <u>„Nem.”</u>	<input type="checkbox"/>	
26) Hogyan értelmezed a tábla jelentését?	<input type="checkbox"/>	
a. „Az úton olyan útkereszteződés van, amelyben a járműnek elsőbbsége van a jobbról érkező járművel szemben.”	<input type="checkbox"/>	
b. <u>„Az úton olyan útkereszteződés van, amelyben a jobbról érkező járműveknek van elsőbbsége.”</u>	<input type="checkbox"/>	
c. „Az úton olyan útkereszteződés van, ahol a keresztező úton érkező minden járműnek elsőbbsége van.”	<input type="checkbox"/>	
27) Hogyan értelmezed a tábla jelentését?	<input type="checkbox"/>	
a. „Az úttest a megelőző útszakaszhoz képest lényegesen rosszabb állapotban van.”	<input type="checkbox"/>	
b. <u>„Az úton a domborzati viszonyok miatt a kilátás korlátozott.”</u>	<input type="checkbox"/>	
c. „A gödrös, rossz állapotban lévő úttesten az alacsony járművek alja fennakadhat.”	<input type="checkbox"/>	
28) Hány éves kortól szabad közlekedni kerékpárral a táblával megjelölt útvonalon?	<input type="checkbox"/>	
a. „Kísérővel 6, kísérő nélkül 12 éves kortól.”	<input type="checkbox"/>	
b. „Kísérővel 10, önállóan 12 éves kortól.”	<input type="checkbox"/>	
c. <u>„Csak 12 éves kortól.”</u>	<input type="checkbox"/>	
29) Mennyi időre állhatsz meg a táblával megjelölt úttesten?	<input type="checkbox"/>	
a. „Csak az utas(ok) be- és kiszállásához szükséges ideig.”	<input type="checkbox"/>	
b. <u>„A be- és kiszálláshoz, vagy a folyamatos fel- és lerakodáshoz szükséges ideig, valamint egyéb okból – ha a vezető a járműnél marad – legfeljebb 5 percig.”</u>	<input type="checkbox"/>	
c. „Legfeljebb 10 percig.”	<input type="checkbox"/>	
30) Mit jelez ez a tábla?	<input type="checkbox"/>	
a. „A nyíl mutatja az ajánlott haladási irányt.”	<input type="checkbox"/>	
b. „Az út ideiglenes lezárása miatt a terelőút jobbra vezet.”	<input type="checkbox"/>	
c. <u>„Az útkereszteződésben jobbra kell továbbhaladni.”</u>	<input type="checkbox"/>	